

## 社会科 臨時休業中の課題

○課題内容：教科書などを参考に、プリントを完成させること。

\* 解答はプリントに書き込むか、それが無理な場合は自分のノートに書き込むこと。

\* 「地図に着色する」「地図に斜線を引く」といった問題はやらなくても良い。

○提出日：臨時休業明け最初の社会科の授業。

○注意点：この課題は臨時休業明けの授業をスムーズに行うためのものです。今後の授業のことを考えながら取り組んでください。

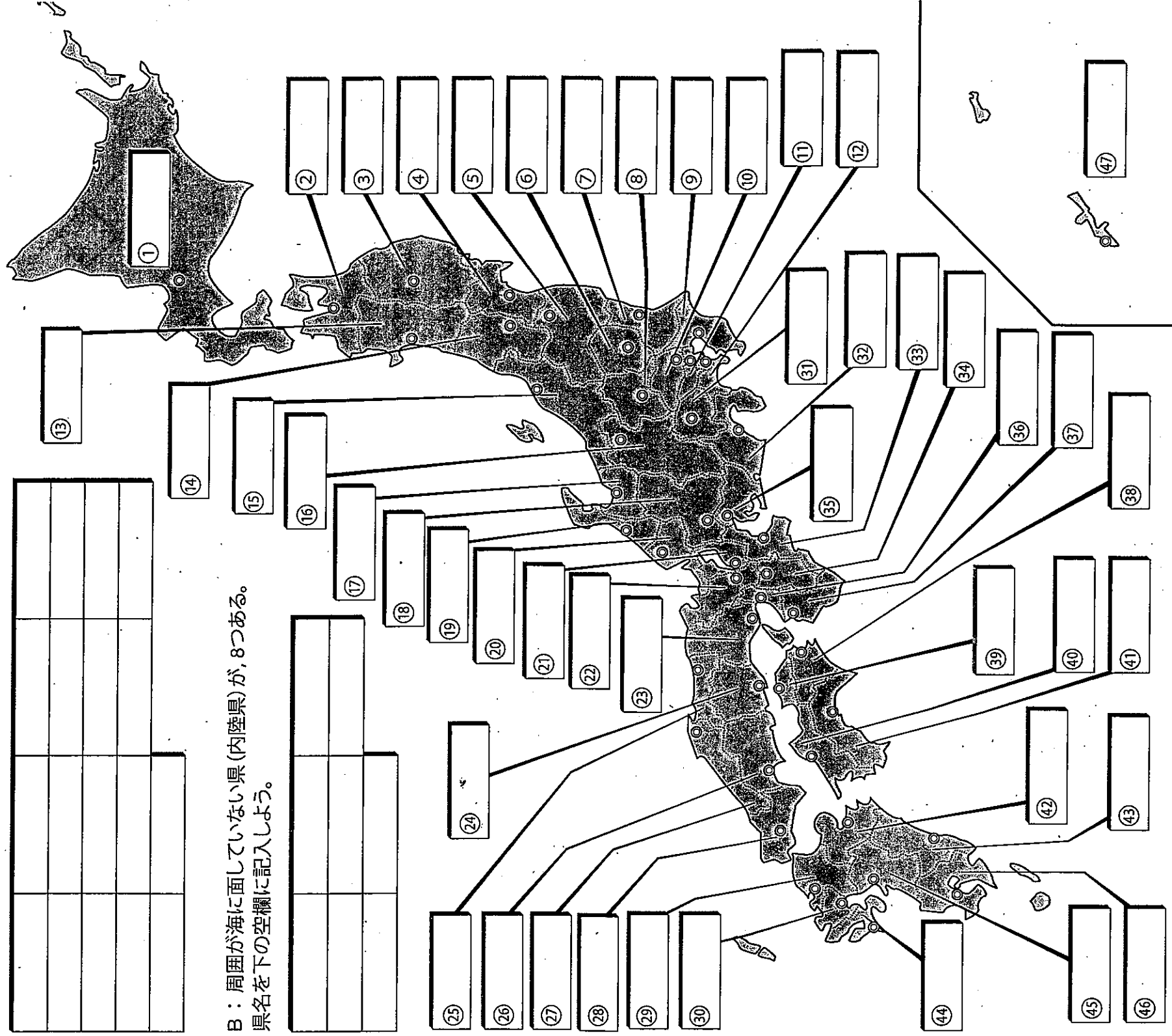
年 組 番 氏名： \_\_\_\_\_

# 日本の都道府県を覚えよう

いよいよ我が国日本を眺めていくことにする。ここではもっとも基本的な行政単位である「都道府県」について、その名称を確認しておこう。地図帳で「日本全図」や「日本の行政区分」などタイトルがついたページや図を見てみよう。そのページを参考にして、都道府県名を空欄に記入しよう。

A：日本は47都道府県(1都1道2府43県)からなっている。この中で都・道・府・県庁所在地の名称が県名と異なっている都市が18ある。その都市名を下の空欄に記入してみよう。


◎は都道府県庁の所在地。都市名を調べてみよう。



B：周囲が海に面していない県(内陸県)が、8つある。県名を下の空欄に記入しよう。

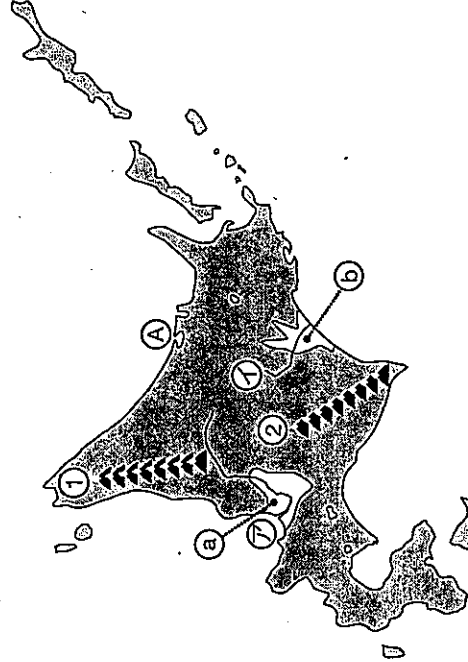

# 1年、社会、解答は自分のノートに書く その1

# 日本の地形も覚えよう

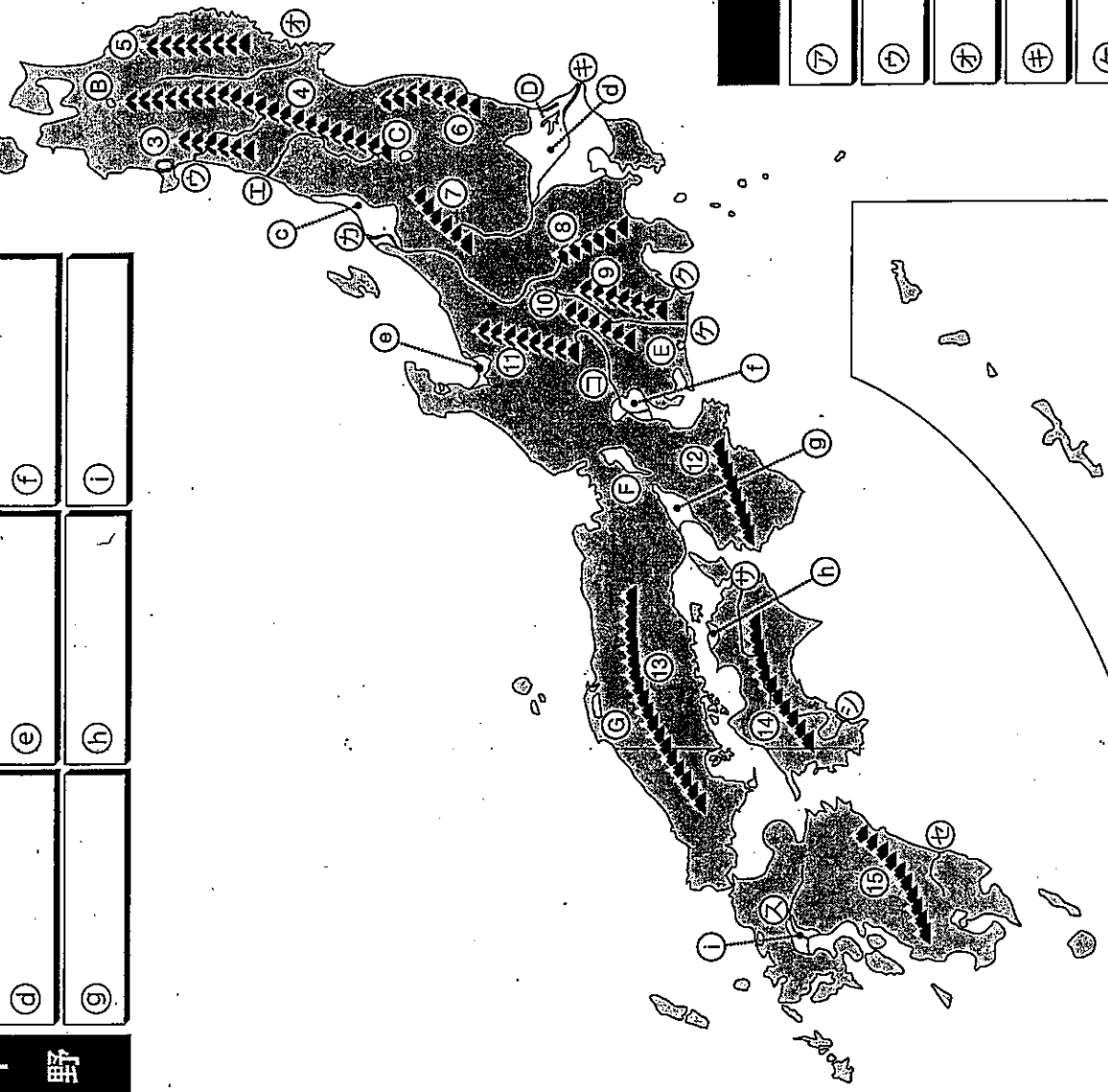
次に、山脈や河川など日本の地形を見ていくことにする。  
 さっき学習した都道府県をいくつもまたがるような山脈や河川もあるので、位置と名称はしっかり覚えていこう。では、空欄に山脈・山地・高地や平野、河川、湖沼の名称を記入してみよう。

①	②	③
④	⑤	⑥
⑦	⑧	⑨
⑩	⑪	⑫
⑬	⑭	⑮
⑯	⑰	⑱
⑲	⑳	㉑
㉒	㉓	㉔
㉕	㉖	㉗
㉘	㉙	㉚

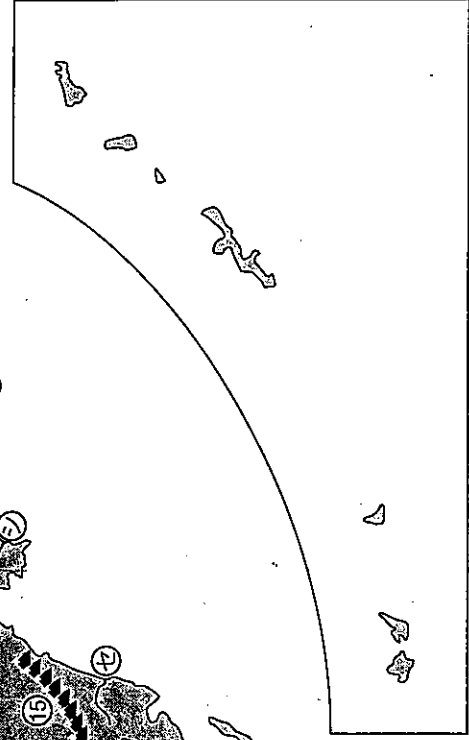
山脈・山地・高地      平野



湖沼	①	②	③	④	⑤	⑥	⑦
	⑧	⑨	⑩	⑪	⑫	⑬	⑭



河川	①	②	③	④	⑤	⑥	⑦
	⑧	⑨	⑩	⑪	⑫	⑬	⑭



No.2

# 1年社会 その3

## 東南アジア・南アジア

東南アジアの国々を見ていくよ。だんだん日本から離れていくね。

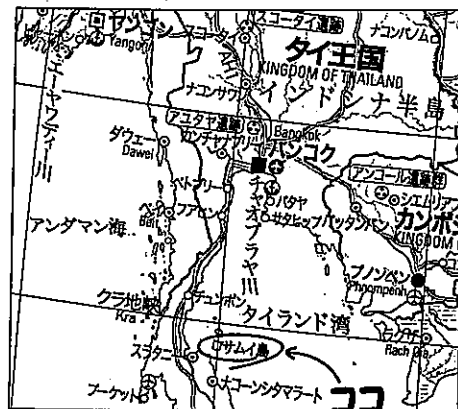
前ページで見た台湾のすぐ南にフィリピンがある。日本ではバナナの生産で知られているね。フィリピンの首都①があるのは②島。港湾都市ダヴァオがあるのが③島だ。その南、セレベス海をはさんで位置するのがインドネシアだ。人口は約2億4500万で、日本のほぼ2倍だ。島々が東西に長く分布するので、代表的な島を西から見ていこう。

まずは、④島。2004年と2005年にこの島の西の海底を震源とする大地震が起こって多くの犠牲者が出た。首都⑤があるのが⑥島。アジアの国々で南半球に首都があるのはこと東ティモールの⑦だけ！。覚えておこう。その東は⑧島。この国はイスラム教の信者が大多数だけど、この島にはヒンドゥー教の文化が残っているよ。

さて、ジャワ島の北には島では世界で3番目に大きい⑨島があって、島の南部がインドネシア領だよ。そこから東に、スラウェシ島や世界で2番目に大きい⑩島の西半分までインドネシアの領土が広がっている。

ここで、いったんフィリピンへ戻ろう。フィリピンの西には⑪海があるね。この海に浮かぶ⑫諸島は、その帰属をめぐる中国やフィリピンなどこの海域の沿岸にある国々の間で対立が起きているんだよ。さらに西へ行ってベトナムに行こう。

ベトナムはかつて北ベトナムと南ベトナムに分かれていたことがある。その時の北ベトナムの首都は現在の首都でもある⑬だ。一方、南ベトナムの首都だったところが⑭だよ。この都市の南にはチベット高原を源流とする⑮川の河口がある。この川をさかのぼると、まずはアンコール遺跡群で有名なカンボジアに入る。それから、⑯を首都とするラオスとタイの間を国境に沿うように流れている。ちなみに、ラオスは内陸国(内陸にあり、海岸線をもたない国)だ。



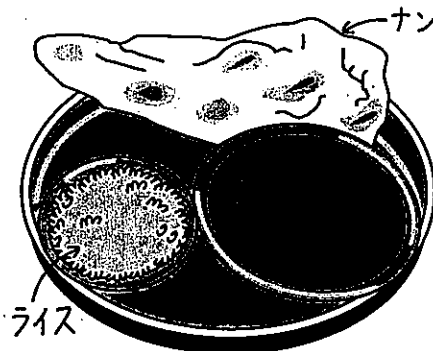
タイは、東南アジアの国では唯一ヨーロッパ諸国の植民地にならなかった国で、首都⑰を⑱川が流れている。領土は⑲半島まで続いていて、その南にマレーシアがある。先ほどのカリマンタン島の北部もマレーシアの領土だよ。マレーシアの首都は⑳で、現在は近郊のプトラジャヤという都市に首都機能を移転している。そして、この半島の先端にあるのがシンガポール。面積は小さいけれど、東南アジアの経済の中心地だ。

「ココナッツ・アイランド」と呼ばれる南国リゾートなのにサムイ島!?

次はミャンマーに行こう。首都が移転して現在は㉑。かつての首都は㉒で、エーヤワディー川が流れている。西にパトカイ山脈があって、ここを越えるといよいよ南アジアに入るんだ。

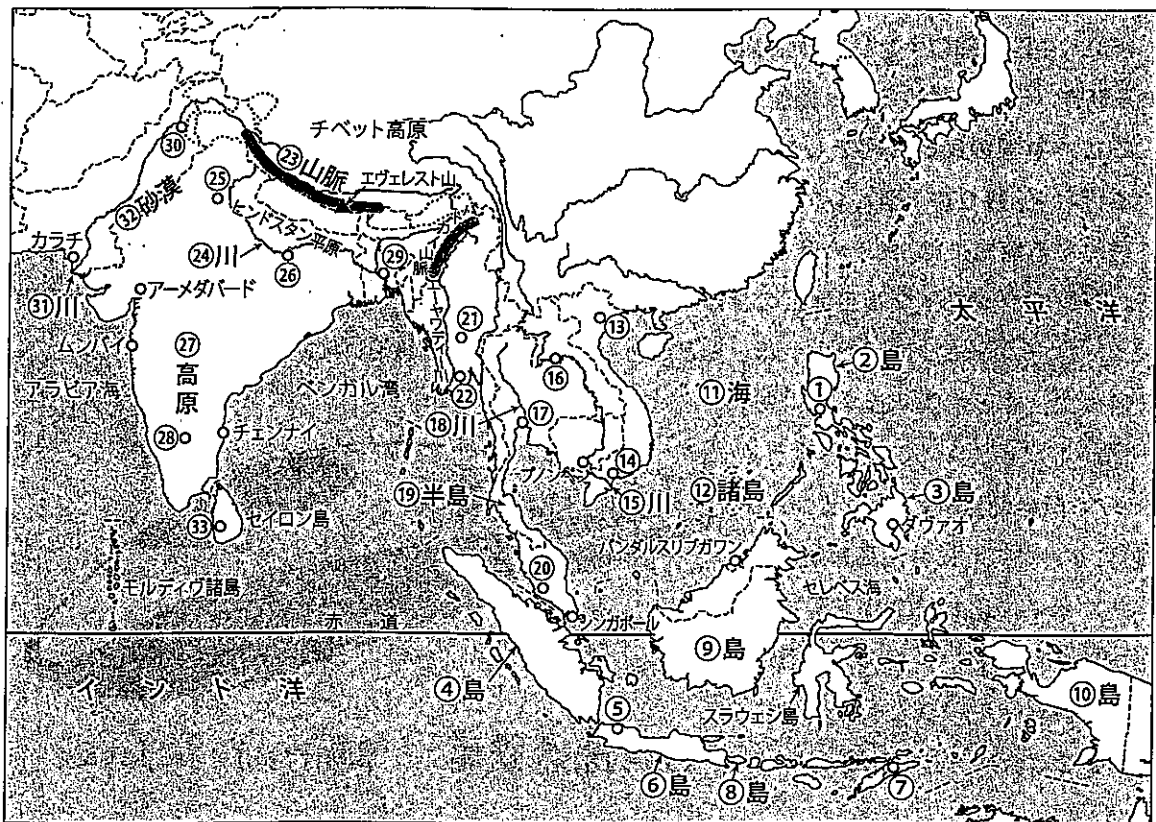
南アジアでまず目に入るのは、世界最高峰8,848mのエヴェレスト山がある㉓山脈だ。山脈の南側にネパールとブータンという国がある。その南がインドだよ。ブータンとインドの国境近くにはアッサム地方という紅茶の生産で有名な地域がある。紅茶生産の中心地ダージリンって地名も見つけられたかな?

インドの北部にはヒンドスタン平原がほぼ東西に広がり、㉔川が流れている。インドの首都㉕やヒンドゥー教の聖地㉖を流れ、ベンガル湾に注いでいる。南部の大部分を占めるのが、綿花栽培が盛んな㉗高原。中心都市は、インドのシリコンヴァレーともいわれるIT産業で有名な㉘だ。



世界のインドカレー 右手で食す


インドの東は㉙を首都とするバングラデシュ、西は㉚を首都とするパキスタンが位置している。両国ともに人口は1億を超えているよ。パキスタンを南北に流れる㉛川は外來河川(湿潤地域に源があり、乾燥地域を貫流する河川)であることに注意! ㉜砂漠の中を流れているんだ。また、インドの南にはセイロンティーが有名なスリランカという国があって、首都は…㉝だ。さらに西へ旅を進めよう!



## 西ヨーロッパ・中央ヨーロッパ

地中海から北上して、西・中央ヨーロッパの国々を見てみよう。

旅の始まりは華やかな場所から。フランスの首都①は花の都や芸術の都とよばれているね。ルーヴル美術館やヴェルサイユ宮殿など文化の香りが高い。首都の中を流れ、イギリス海峡に向かうのが②川だ。さて、フランスには覚えておきたい川がいくつかあるので、川を中心としてその周辺地域を一緒にながめていくことにする。



モンサンミッシェル

②川から西に世界遺産のモンサンミッシェルを通過する。すぐ南に向かい、河口付近に商工業都市ナントがあってビスケー湾に注ぐのが③川。さらにその南には、④盆地を流れるガロンヌ川がある。この地域はブドウ栽培が盛んなところで、もちろんワイン用！中心都市は⑤だよ。盆地の南には⑥山脈が横たわり、スペインとの自然的国境になっている。山脈に⑦という小さい国があるよ。ガロンヌ川の上流に航空機の組立工場がある⑧を確認したら、地中海に抜けよう。

リヨン湾に流れこむ⑨川を見つけよう。河口の東側には、この地方の中心都市⑩がある。フランス最大の貿易港だ。地中海沿岸はリゾート地になっていて、映画祭が開催される⑪やF1レースの開催で知られる⑫などがあるね。この沿岸一帯をコートダジュールという。日本語で「紺碧海岸」。こんなところでバカンスを過ごしたいものだ。

次にフランス北部と接するベルギーに行こう。首都は⑬。ここには、現在ヨーロッパの二十数カ国が加盟するEU（ヨーロッパ連合）など、主要な国際機関の本部が置かれている。EUの首都みたいなおとところだね。ベルギーの東隣の国は⑭。面積は小さい国だけど、1人当たり国民総所得は日本よりも多いので生活水準はきわめて高いよ。


一方、ベルギーの北にあり、国土面積の4分の1が海面より標高の低い国がオランダだ。海面より低い部分は、地図帳では海面下かいめんかといって、深緑色で描かれている。この国といえばチューリップと風車のある風景を思い浮かべる人は多いはず。交通の要衝でもあり、大きな空港と貿易港（ユーロポート）を持つ。首都⑮は、多くの運河によって⑯海と結ばれている。

オランダに河口がある⑰川を上ってドイツに行ってみよう。ドイツは1990年まで東西の2つの国に分かれていた歴史があって…（詳しい事情は図書室で調べてみよう！）。川は、当時西ドイツの首都だった⑱を通過する。音楽家ベートーヴェンの生誕地だね。さらに上ると、近くにドイツ最大の空港を持つ⑲がある。その南にあるライン地溝帯を見つけよう。両側を山に囲まれた凹型の地形を川が流れているんだ。よく見ると、川はドイツとスイスの国

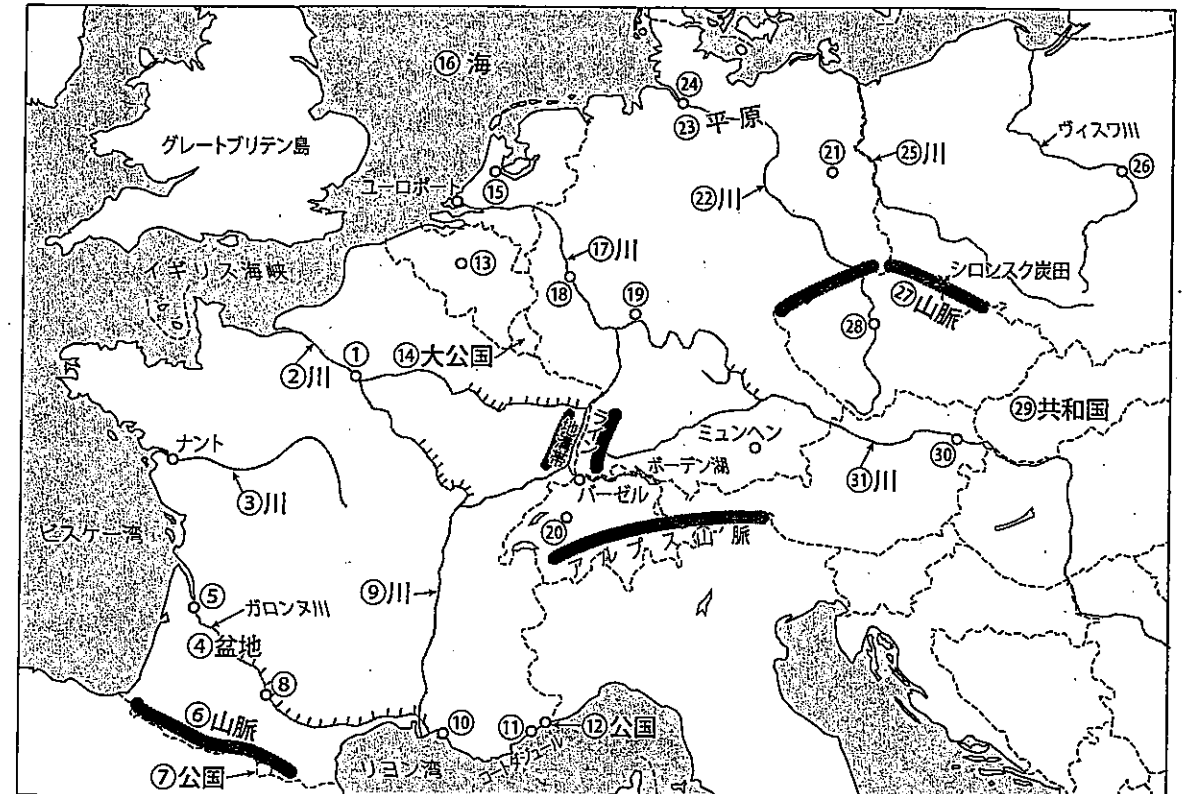
境となっているボーデン湖から流れ出ているのがわかる（源流はもっと上流だけ）。その湖の西、スイスのパーゼルは、ライン川水運の終点にある都市だ。こんなに内陸まで船で河口から上ってこれるんだね。ちなみにスイスの首都は⑳だ。

ここで、ドイツに戻って首都を探そう。㉑だね。東ドイツの首都だったところだ。その西を流れる㉒川の下流には㉓平原が広がっている。河口にはドイツ北部の大都市㉔が位置する。ハンバーグという名前はこの都市と関係しているとのこと。

ドイツと㉕川で接しているのがポーランド。この国は音楽家ショパンやノーベル賞を受賞したキュリー夫人の生誕地で知られる。首都はヴィスワ川に面した㉖だ。ポーランド南部の㉗山脈にはシロンスク炭田などがあり、石炭が多く産出される。この山脈を越えるとチェコに入る。首都は㉘。また、かつてこの国と一つの国になっていた㉙が東にある。チェコの南はオーストリアで、首都の㉚は、クラシック音楽がとても盛んで音楽の都といわれる。ドイツから㉛川が流れて首都を通過する。この川はドイツ南部が源流なんだ。よく地図帳を見て確認してね。そして東側のハンガリーへ流れていく。この川の様子は次の東ヨーロッパで見ることにしよう。



マクデブルクの水路橋  
ヨーロッパは運河網が発達しており、貨物船による物流が盛ん。





## 北アメリカ中央部


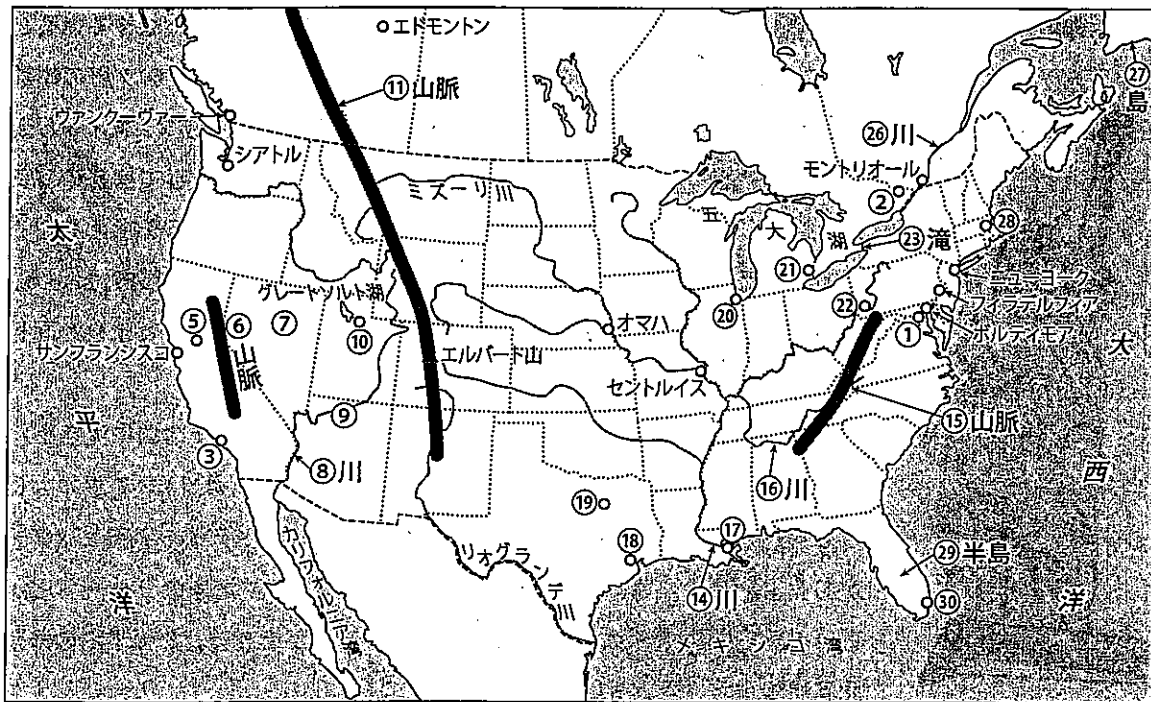
ここでは、アメリカ合衆国とそれに接するカナダ南部について見ていこう。

アメリカ合衆国の首都は①。ニューヨークではないよ！正式にはコロンビア特別区(District of Columbia = D.C.)という。一方、カナダの首都は②だね。「交易」を意味する現地の言葉がルーツのようだ。この両国の国境は西部が北緯49度の緯線に沿って、東部の大半は五大湖によって形づくられている。前者を人為的国境、後者を自然的国境といったね。

ところで、この地域には東西にいくつかの大陸横断鉄道が通っている。どれも開通してからすでに100年以上たっているけど、今でも重要な路線だよ。ユニオンパシフィック鉄道に沿ってこの地域をながめてみよう。

まず、アメリカ合衆国の西海岸にあるカリフォルニア州の中心都市サンフランシスコを見つけよう。近郊には、IT産業が集積するシリコンヴァレーがある。南へ行くと、この地域の中心都市③だ。映画産業が盛んなハリウッドが有名。この2つの都市の間には、横ずれ断層の代表例とされる④断層がある。カリフォルニア州の州都⑤が大陸横断鉄道の起点となる。見つかったかな？では東へ進んでみよう。

はじめに現れる⑥山脈を越えるとネヴァダ州に入る。州のほとんどを乾燥した大盆地の⑦が占める。州の南端を⑧川がカリフォルニア湾に向かって流れている。この川をさかのぼると、⑨という大峡谷が姿を見せる。どこかで写真を目にしたことがあるんじゃないかな？さらに東に行くと、ユタ州の州都⑩だ。グレートソルト湖も見える。地名が塩っぽいけど、湖も塩湖だね！



プレーリードッグ  
名前は犬だけヒネズミ目

ここで、北アメリカ大陸を南北に貫く⑪山脈を見つけよう。この山脈の最高峰はエルパート山(標高4,398m)だよ。

鉄道でさらに東に進むと、⑫とよばれる草丈の短い草原地帯が広がる。そして、西経100度あたりをこえると草丈の長い⑬とよばれる草原地帯になる。西経100度と年降水量500mmの線がほぼ一致するので、植生が変わるとともに、おもに降水量の少ない西側は牧畜地域、降水量の多い東側は小麦やとうもろこしを栽培する農業地域とに区分することができる。

その東、中央平原を北アメリカ大陸で1番長い⑭川が北から南へ流れている。この川の東には⑮山脈が走り、この山脈を源流とした⑯川が合流する。河口の都市はジャズの発祥地として知られる⑰だ。少し西へいくと、航空宇宙産業の盛んな⑱やシリコンブ

レーンとよばれる半導体産業が盛んな地域の中心都市⑲があるので確認しておこう。

ユニオンパシフィック鉄道の終点はオマハになるよ。そこからさらに東に目を向けると、アメリカ合衆国で3番目に人口が多い⑳やアメリカの自動車産業の発祥地で「自動車の街」ともいわれる㉑、製鉄で発展した㉒が位置している。いずれも五大湖周辺にある重要な都市だよ。

五大湖のエリー湖とオンタリオ湖の間にあるのが㉓滝だ。エリー湖の湖面標高が㉔m、オンタリオ湖が㉕mであることが地図帳から読み取れたかな？この落差が滝になっているんだ。そしてオンタリオ湖から㉖川が北東へ流れている。河口へ出た先には㉗島があり、この島の沖合は世界有数の漁場となっている。

最後にアメリカ合衆国の東海岸をみよう。マサチューセッツ州の州都㉘からニューヨーク(アメリカ経済の中心都市で、ウォール街に証券取引所がある)、フィラデルフィア、ボルティモア、そして首都のワシントンD.C.にかけては巨大都市が連続し、人口も約4,000万を超える。このように巨大都市が連続している状態をメガロポリス(巨帯都市)という。日本では、東京～横浜～名古屋～大阪～神戸あたりの都市のまとまりも同じようによばれるんだ。

さらに東海岸を南に進んでいくと、メキシコ湾と大西洋の間に突き出た㉙半島がある。州名も同じだね。ここには、日本でもおなじみのテーマパーク、ウォルトディズニーワールドやケネディー宇宙センターがあるよ。この半島には半導体産業が盛んなタンパや海岸のリゾート地が近い㉚などの都市を見つけることができる。この半島の南を北回歸線が通っているね。確認しておこう。

